

2/16/20

Les 9

9.1

- Lees de advertentie.
- Bereken wat er gevraagd wordt.

Hoeveel euro verdient de volleybalclub als er 1 000 kg in de container zit?

$1000 \times 0,07 = 70$									

Antwoord: Ze verdienen € 70.

Papierslag

Voor onze volleybalclub verzamelen we oud papier in de container aan de sporthal. Per kilogram krijgen we € 0,07.



9.2

- Zoek het juiste product.
- Verbind de gsm met het juiste telefoontoestel.
- Zet de komma in kleur.

1 000 × 451,7
451 700

10 000 × 4,517
45 170

10 × 4,517
45,17

100 × 4,517
451,7

10 × 451,7
4517



Les 10

10.1 Los de cijferoefeningen op.

$$4 \times 2768 = 11072$$

Ik schat: $4 \times 3000 = 12000$

	T	D	H	T	E
		2	7	6	8
				4	
x					
	1	1	0	7	2

Ik controleer met de ZRM:

$$4 \times 2768 = 11072$$

$$6 \times 12764 = 76584$$

Ik schat: $6 \times 10000 = 60000$

	T	D	H	T	E
	1	2	7	6	4
				6	
x					
	7	6	5	8	4

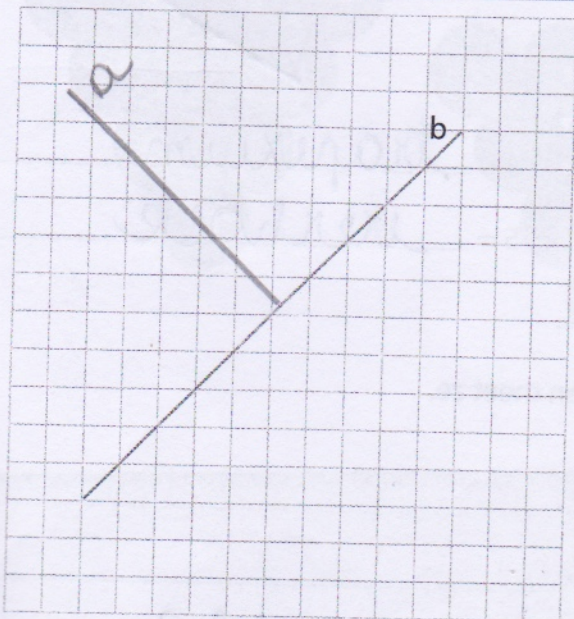
Ik controleer met de ZRM:

$$6 \times 12764 = 76584$$

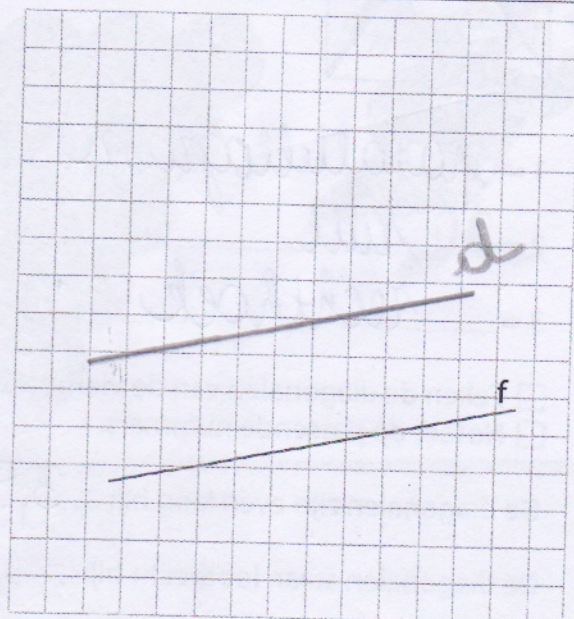
Les 11

11.1 Teken wat er gevraagd wordt.
Gebruik een geodriehoek.

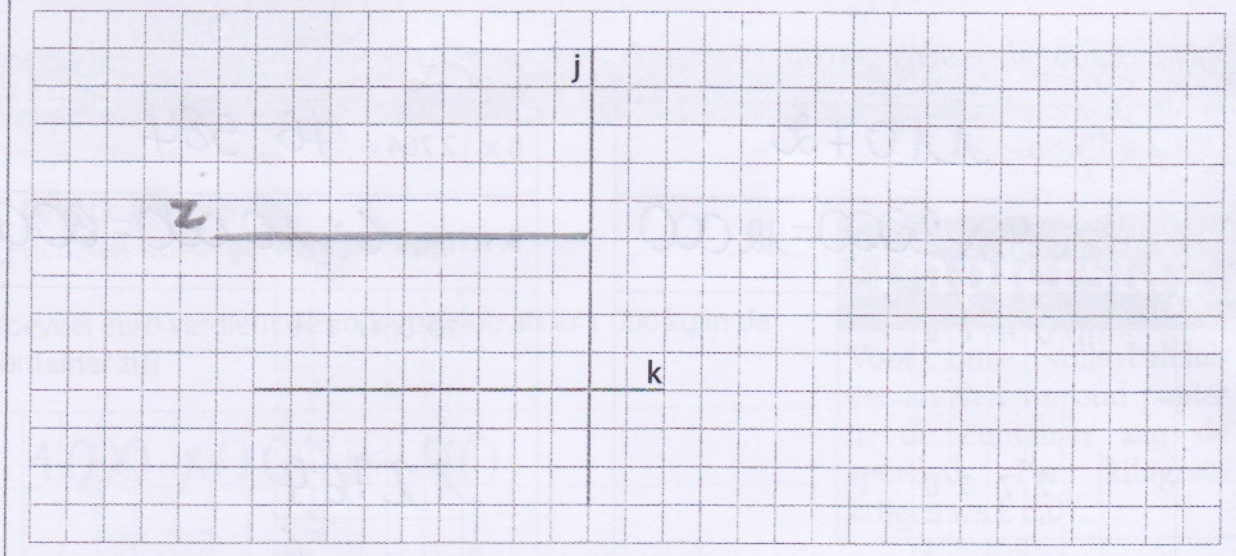
Teken een rechte a loodrecht op de rechte b.



Teken een rechte d evenwijdig aan de rechte f.

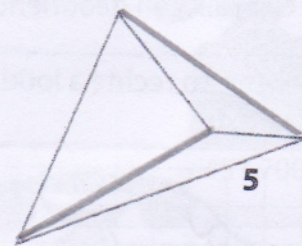

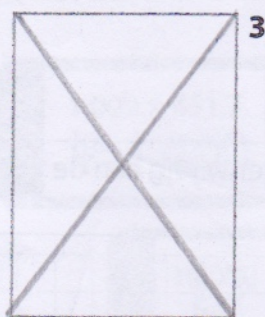
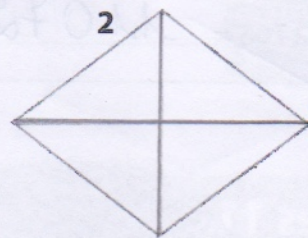


Teken een rechte z evenwijdig met de rechte k en loodrecht op de rechte j.



11.2

Noteer de best passende naam bij de figuren.



1 = parallelogram

4 = trapezium

2 = ruit

5 = vierhoek

3 = rechthoek

Teken de diagonalen van de vierhoeken en meet ze.

Noteer de passende nummers.

De diagonalen zijn even lang bij: 3, 5

De diagonalen staan loodrecht bij: 2

De diagonalen halveren elkaar of snijden elkaar middendoor bij: 1, 2, 3

12.1 Los de cijferoefeningen op.

$3 \times 23\,523,15 = 70\,569,45$

Ik schat: $3 \times 20\,000 = 60\,000$

	2	3	5	2	3,	1	5
							3
x							
	7	0	5	6	9,	4	5

Ik controleer met de ZRM:

$3 \times 23\,523,15 = 70\,569,45$

$7 \times 36\,218,21 = 253\,527,47$

Ik schat: $7 \times 40\,000 = 280\,000$

x							

Ik controleer met de ZRM:

$7 \times 36\,218,21 = 253\,527,47$

SPELLETJESKAART

Druiventrossen tellen

De som van twee druiven staat telkens in de druif eronder. Kun jij in elke druif het juiste cijfer zetten?

