

Naam: .....

Nr. ....

**1 Schrijf de getallen. Je mag in een tabel werken.**

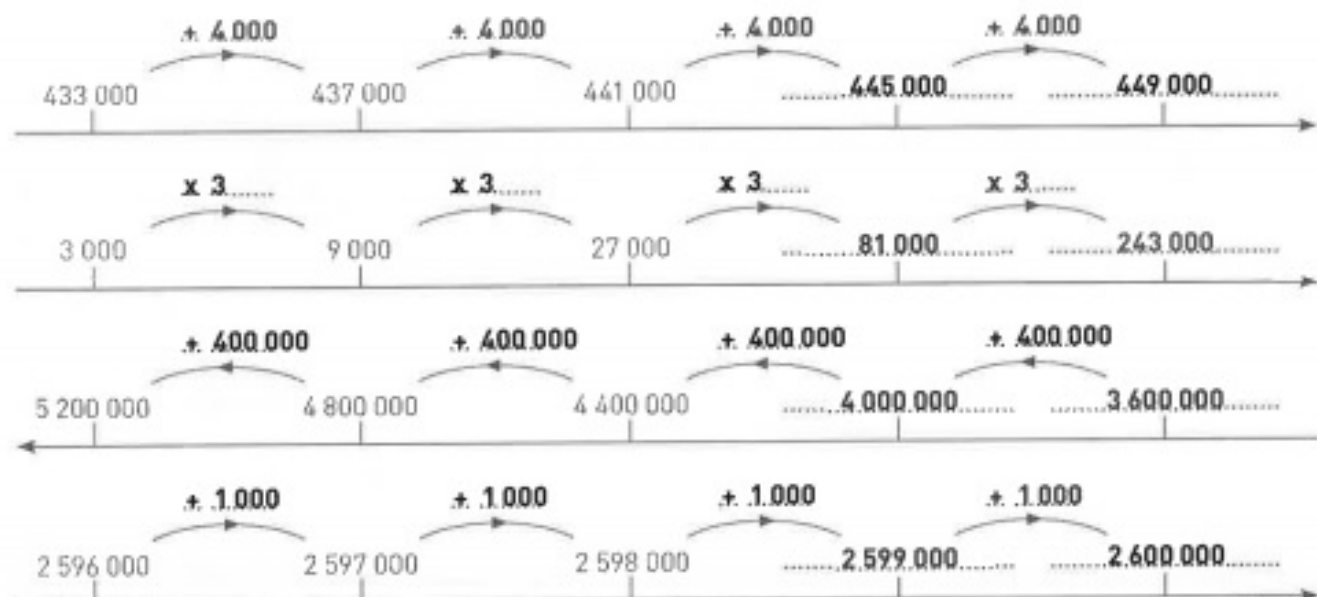
7H minder dan 7 657 987 = **7.657.287**.....  
 5TD meer dan 8 756 000 = **8.806.000**.....  
 2HD minder dan 5 789 090 = **5.589.090**.....  
 8D meer dan 18 060 = **26.060**.....  
 9E meer dan 342 657 = **342.666**.....  
 3T minder dan 6 789 = **6.759**.....

**2 In de onderstaande getallen is telkens het vetgedrukte cijfer door een ander cijfer vervangen. Vul in hoeveel het tweede getal meer of minder is dan het eerste getal.**

9 395 403 is **5HD** of **500.000** minder..... dan 9 895 403  
 574 732 is **3TD** of **30.000** meer..... dan 544 732  
 6 658 532 is **2M** of **2.000.000** minder..... dan 8 658 532  
 780 090 is **7T** of **70** meer..... dan 780 020

**3 Verwissel het cijfer van de HD met het cijfer van de M. Schrijf het nieuwe getal. Vergelijk de getallen en vul aan met groter dan (>), kleiner dan (<) of gelijk aan (=).**

9 545 454	>	5 945 454		4 694 991	<	6 494.991
3 200 213	>	2.300.213		6 298 432	>	2.698.432
7 816 509	<	8.716.509		5 176 876	>	1.576.876
2 651 794	<	6.251.794				

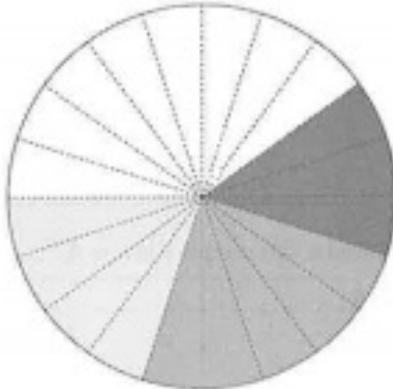
**4 Zet de getallenassen verder. Noteer bij de pijlen welke bewerking je tussen twee opeenvolgende getallen maakt.**

Naam: .....

Nr. ....

**1 Beantwoord de vragen bij het cirkeldiagram.**

vervoer naar school



Hoe komen de meeste leerlingen naar school?

**De meeste leerlingen komen te voet.** .....

Welke vorm van vervoer heeft het minst succes?

**De bus heeft het minste succes.** .....

Hoeveel percent van de kinderen komt met de fiets?

**20% komt met de fiets.** .....

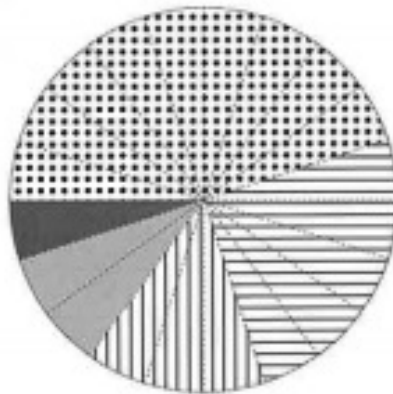
Wat is het verschil in percent tussen 'te voet' en 'met de fiets'?

**Er is een verschil van 20%.** .....

Hoeveel percent haalt 'met de auto' meer dan 'met de bus'?

 $\frac{5}{20} - \frac{3}{20} = \frac{2}{20} = \frac{1}{10} = 10\%$  .....**2 De muziekcollectie van Sander**

Kleur de legenda. Geef de percenten weer in het cirkeldiagram.



legenda	
	45 % popmuziek
	25 % Vlaamse muziek
	15 % dance
	10 % rock
	5 % andere

Sander heeft 400 liedjes op zijn mp3-speler staan.  
Hoeveel heeft hij er van elke soort?  
Vul de tabel aan.



muzieksoort	in %	aantal
popmuziek	..45%..	...180...
Vlaamse muziek	..25%..	...100...
dance	..15%..	...60....
rock	..10%..	...40....
andere	..5%..	...20....