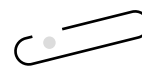
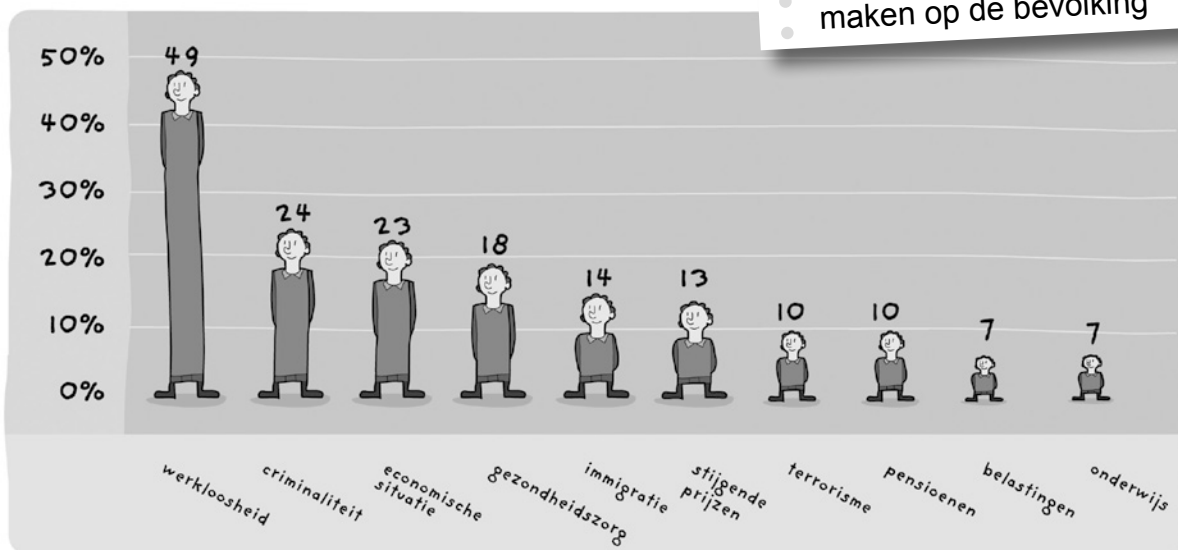


Europa ... onze toekomst?

In deze les bestudeer je diagrammen. Je trekt besluiten uit de diagrammen over het verleden, het heden en de toekomst. Je geeft ook je eigen mening.

Bekijk de volgende diagrammen aandachtig. Lees de titel, zodat je weet waarover het diagram gaat. Los daarna de vragen op.

A Europeanen maken zich zorgen over ...



woordenschat

- criminaliteit
- misdaad
- immigratie
- mensen die vanuit andere landen in ons land komen wonen
- emigratie
- mensen die ons land verlaten om elders te gaan wonen
- terrorisme
- geweld plegen om indruk te maken op de bevolking

1 Waarover maken de meeste Europeanen zich zorgen voor de toekomst?

werkloosheid


2 Waarover maken ze zich het minste zorgen?

belastingen en onderwijs

3 Is er een categorie waar jij je als volwassene meer zorgen over zou maken dan de gemiddelde Europeaan? Zo ja, welke categorie is dat dan?

eigen invulling

B Is een diploma belangrijk? Hieronder zie je wie het meest werkloos wordt.



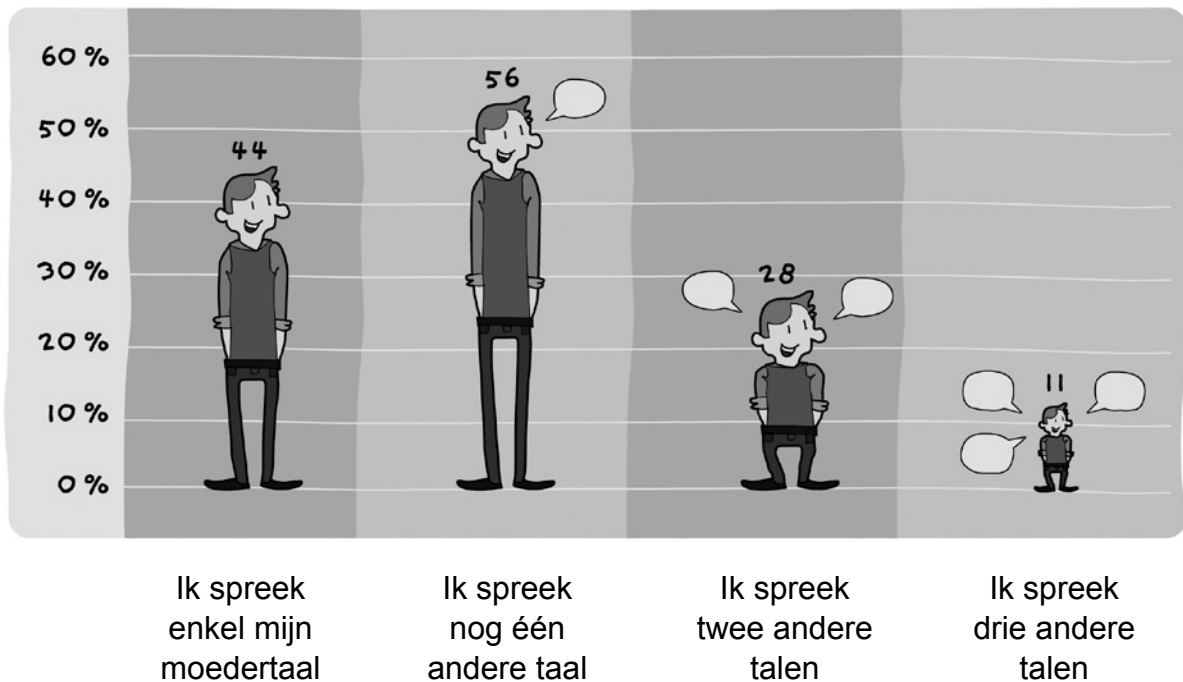
1 Zijn deze uitspraken juist of fout?

- Hoe hoger je diploma, hoe vlugger je werk vindt. juist
- Hoe vlugger je stopt met school, hoe meer kans je hebt om werkloos te zijn.
juist

2 Wat besluit jij uit dit diagram?

Dat een diploma belangrijk is om (vlug) werk te vinden.
Je kunt maar beter goed voor school werken.

C Eén Europa ... maar vele talen. Hoeveel talen spreken de Europeanen?



1 Hoeveel talen spreken de meeste Europeanen?

twee

2 Hoeveel % spreekt geen enkele andere taal?

44 %

3 Waarom zullen de meeste mensen in de toekomst wel meer dan twee andere talen spreken? Geef minstens twee redenen.

Omdat: 1 ons land bij de Europese Unie hoort.

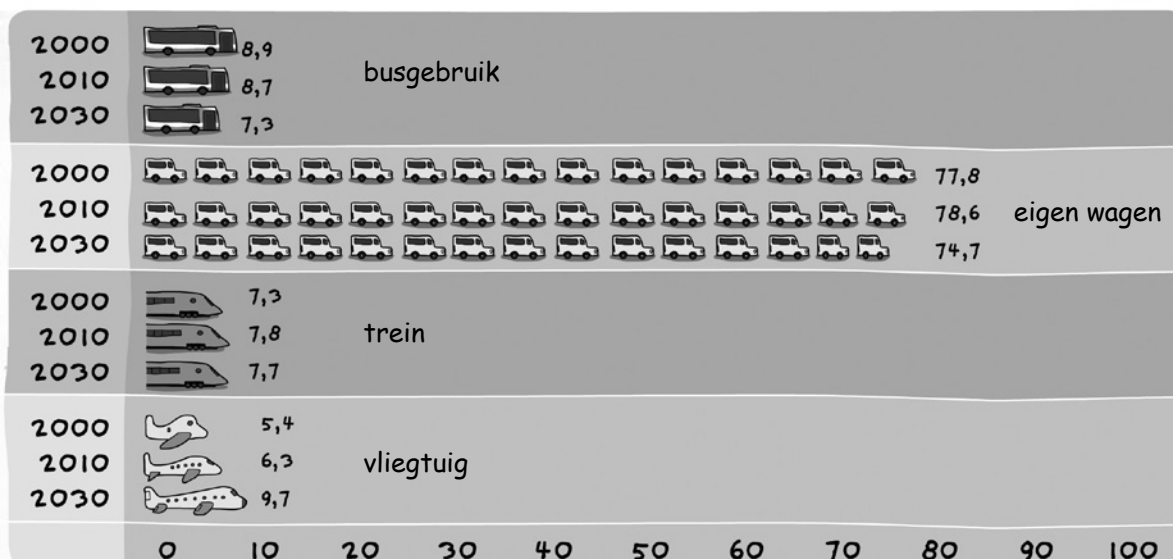
Omdat: 2 we door het internet en door te reizen met andere talen in contact komen.

4 Hoeveel talen spreek jij?

eigen invulling

3 onze maatschappij is samengesteld uit mensen uit verschillende culturen/landen.

**D Europeanen maken gebruik van het openbaar vervoer.
Kijk goed en vergelijk de procenten van 2000, 2010 en 2030.**



1 Welk vervoermiddel zal altijd het meest gebruikt worden?

eigen wagen

2 Wat zou de reden daarvoor zijn?

Je vertrekt aan de deur en stopt waar je moet zijn, meer privacy, geen wachttijden ...

3 Kijk naar de cijfers van 2030 voor de verschillende vervoermiddelen.
Wat stel je vast als je het jaar 2010 vergelijkt met 2030?

- | | | | |
|--------------------------------|---|---|--|
| Het gebruik van de autobus | <input type="radio"/> stijgt | <input type="radio"/> blijft bijna hetzelfde | <input checked="" type="radio"/> daalt |
| Het gebruik van de eigen wagen | <input type="radio"/> stijgt | <input type="radio"/> blijft bijna hetzelfde | <input checked="" type="radio"/> daalt |
| Het gebruik van de trein | <input type="radio"/> stijgt | <input checked="" type="radio"/> blijft bijna hetzelfde | <input type="radio"/> daalt |
| Het gebruik van het vliegtuig | <input checked="" type="radio"/> stijgt | <input type="radio"/> blijft bijna hetzelfde | <input type="radio"/> daalt |

4 Waarom daalt het autogebruik lichtjes, denk je?

- hogere benzineprijzen

- files

- kostprijs wagen, verzekering, taksen

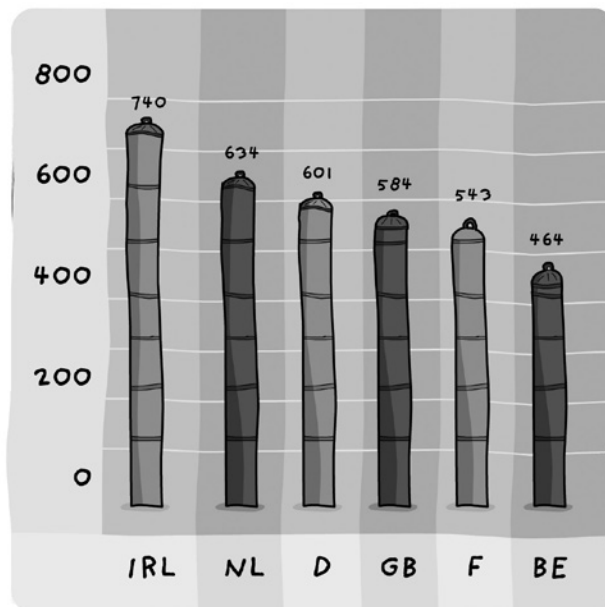
5 Waarom stijgt het gebruik van het vliegtuig zo sterk?

Mensen gaan vaker naar het buitenland op vakantie en voor hun werk.

E Europeanen zijn met velen. En dus is er een heleboel afval. Dit diagram toont aan hoeveel kilo iedere persoon per jaar aan afval produceert.

Enkele nabije landen op een rijtje.

- IRL = Ierland
- NL = Nederland
- D = Duitsland
- GB = Verenigd Koninkrijk
- F = Frankrijk
- B = België



1 Hoeveel kilogram afval produceert een Belg per jaar? 464 kg

2 Hoeveel kilogram afval produceert jouw gezin volgens dit diagram per jaar?

Houd rekening met hoeveel personen je thuis bent.

464 kg x ... personen = ...

3 Welk land produceert 170 kilogram afval per persoon minder dan Nederland?

België

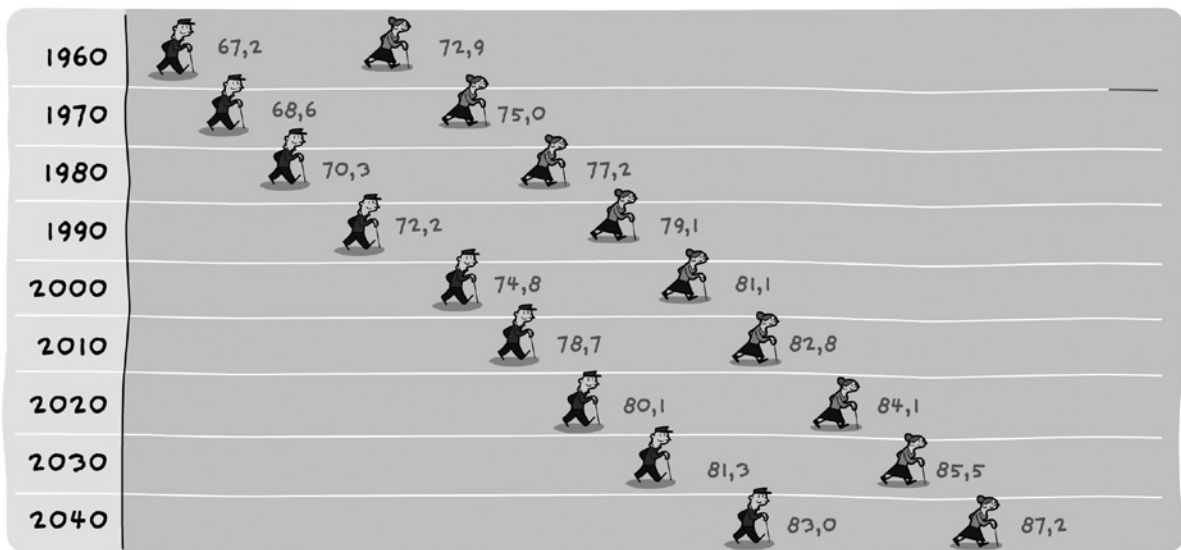
4 Welk land produceert ongeveer 10% minder afval dan Duitsland?

Frankrijk

5 Hoe kunnen landen ervoor zorgen dat de afvalberg nog meer vermindert in de toekomst?

recycleren, composteren, sorteren

F Europeanen leven langer en langer ... Wat brengt de toekomst?



1 Wie leeft gemiddeld het langst: een vrouw of een man?

vrouw

2 Vergelijk 1960 met 2010.

Hoeveel jaar leeft een man gemiddeld langer tegenover 50 jaar voordien?

11,5 jaar

Wat stel je vast als je kijkt naar de leeftijd van een vrouw?

Een vrouw leeft 9,9 jaar langer.

3 Hoe komt het dat mensen in de toekomst nog langer zullen leven?

betere gezondheidszorg

betere levenscondities

4 Zou jij heel oud willen worden? ja nee

Waarom wel of waarom niet?

eigen invulling

5 Welke problemen ondervindt een bejaarde als hij ouder wordt?

bv. ziekte, lichamelijke klachten, geestelijke klachten

(alzheimer, dementie)



6 Welke problemen heeft de maatschappij als mensen zo oud worden?

*De overheid moet meer pensioenen uitbetalen en voor meer
rusthuizen zorgen.*

 **G Voor wie klaar is?**

Kies één diagram waarbij je het niet eens bent met wat er wordt weergegeven.

Dit wil ik zeggen bij diagram A – B – C – D – E – F (omcirkel je keuze).

Ik vind dat

eigen invulling
